

# 地理

一般選抜（2月7日実施分）

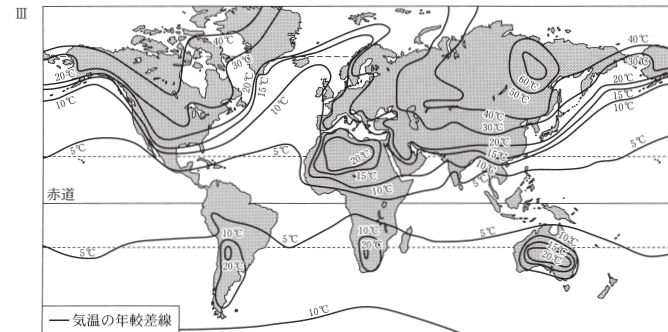
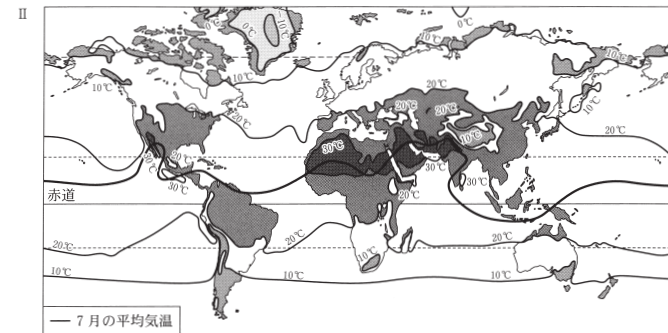
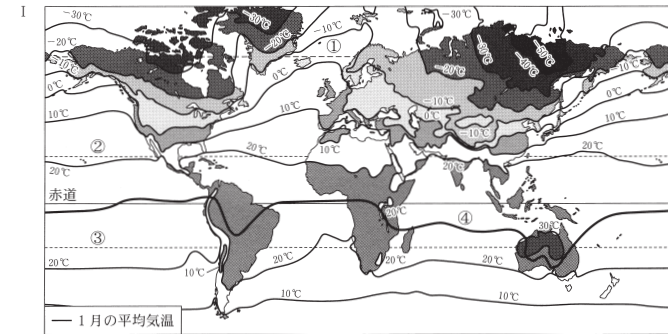
●全学部・全学科 A（前期日程）

【1】 図Ⅰ～Ⅲを参考しながら次の文を読み、文中の（ 1 ）～（ 13 ）にあてはまる適切な語句を下の語群から選び、記号で答えよ。

- A 気候とは長期にわたって（ 1 ）繰り返される大気の（ 2 ）的な状態をいう。（ 3 ）は、気温・（ 4 ）・風向・風速などであり、観測によって測定され、これらの統計値によって気候を説明することができる。（ 5 ）は、緯度・海拔高度・（ 6 ）・海流・海陸分布などであり、これらによって気候の（ 7 ）が生じる。
- B 図Ⅰの破線①より北側は、冬に太陽が昇らない極夜、夏に太陽が沈まない白夜となる時期がみられる（ 8 ）である。破線②および破線③はそれぞれ、北半球および南半球の夏至の正午に太陽が真上に来る地点を結んだ線であり、このうち破線②を（ 9 ）という。太線④は平均気温の特に高い地点を結んだ線であり、（ 10 ）とよばれる。
- C 世界の1月と7月の平均気温および年較差の特徴は、（ 5 ）から推測することができる。1月の気温は、ヨーロッパでは偏西風と暖流である北大西洋海流の影響で、緯度のわりに温暖である。北半球の陸域では、高緯度の（ 11 ）は、（ 12 ）よりも低温であり、特にシベリア東部は極寒となる。7月の気温は、北半球では海洋上よりも（ 11 ）の方が、気温が高温である。気温の年較差は（ 13 ）緯度ほど小さい。シベリア東部は年較差が最大となるほか、大陸の（ 11 ）では年較差が大きく等温線が閉じた地域がみられる。

〔語 群〕

ア 降水量	イ 特 異	ウ 内陸域	エ 総 合	オ 中	カ 不快指数
キ 変 動	ク 毎 年	ケ 局 所	コ 気候区分	サ 地域差	シ 沿岸域
ス 気候因子	セ 毎 月	ソ 降雪量	タ 重 力	チ 毎 日	ツ 低
テ 気候要素	ト 地 形	ナ 磁 場	ニ 高	ヌ 高地	ネ 南回帰線
ノ 北極圏	ハ 北回帰線	ヒ 熱赤道	フ 収東帯	ヘ 北極海	



出所：『新詳地理資料 COMPLETE 2024』帝国書院より作成

【2】 東南アジアに関する次の文を読み、以下の問いに答えよ。

東南アジアの国々は19世紀以降、欧米諸国による植民地支配を受けてきた。現在のベトナム、ラオス、カンボジアは( 1 )、マレーシアやミャンマー(旧ビルマ)、ブルネイは( 2 )、インドネシアは( 3 )がそれぞれ宗主国となって植民地支配を続けてきた。このような中、唯一植民地支配を受けなかった国はタイである。( 1 )、( 2 )の植民地に挟まれた形で位置するタイは、両国間の衝突を避けるためのバッファーと呼ばれる( X )国とみなされた結果、独立国家として維持し続けることができたのである。

なお、マレーシアは独立後、総人口(2021年時点で約3,267万人)の約7割を占める(α)系民族と、経済的な実権を握る(β)系民族との間で著しい経済格差がみられることが指摘されていた。その是正策として、教育や雇用、金融面で(α)系民族を優遇するために1971年から導入されたのが( Y )政策である。

問1 文中の( 1 )～( 3 )にあてはまる適切な語句を次の語群から選び、記号で答えよ。

〔語群〕

- ア ベルギー                      イ ドイツ                      ウ イギリス                      エ フランス  
オ アメリカ合衆国              カ オランダ                      キ イタリア                      ク スペイン

問2 文中の( X )にあてはまる適切な語句を漢字2文字で答えよ。

問3 文中の(α)と(β)にあてはまる正しい組合せを以下の選択肢から選び、甲・乙いずれかの記号で答えよ。

〔語群〕

- 甲 (α) マレー (β) 中国                      乙 (α) 中国 (β) マレー

問4 文中の( Y )にあてはまる適切な語句を答えよ。

問5 インドシナ半島に位置するベトナム、カンボジア、ラオス、タイでは、国の垣根を越えた大規模な経済圏が形成されつつある。その名称にもなった各国を流れる大河川の名称を答えよ。

問6 次の表は、タイ、マレーシア、インドネシアの3カ国における1980年と2019年における輸出品目の構成を比較したものである。(あ)～(お)にあてはまる品目を次の語群から選び、記号で答えよ。

〔語群〕

- a 木材                      b 銅                      c 天然ゴム                      d パナナ                      e 落花生  
f 自動車                      g パーム油                      h バイナップル                      i 米                      j 茶

タイ		マレーシア		インドネシア	
1980年(輸出総額65億ドル)		1980年(輸出総額129億ドル)		1980年(輸出総額219億ドル)	
輸出品目	構成比(%)	輸出品目	構成比(%)	輸出品目	構成比(%)
(あ)	14.7	原油	23.8	原油	53.3
野菜・果実	14.2	(い)	16.4	石油ガス	13.2
(い)	9.3	(え)	14.1	(え)	8.3
すず	8.5	機械類	10.8	石油製品	5.4
機械類	5.8	(お)	8.9	その他	19.8
とうもろこし	5.4	すず	8.9	合計	100.0
その他	42.1	その他	17.1		
合計	100.0	合計	100.0		
2019年(輸出総額2,337億ドル)		2019年(輸出総額2,381億ドル)		2019年(輸出総額1,670億ドル)	
輸出品目	構成比(%)	輸出品目	構成比(%)	輸出品目	構成比(%)
機械類	29.1	機械類	43.3	石炭	13.0
(う)	11.2	石油製品	6.3	(お)	8.8
プラスチック類	4.6	液化天然ガス	4.2	機械類	8.3
金(非貨幣用)	3.4	精密機械	3.9	衣類	5.1
ゴム製品	3.4	(お)	3.5	(う)	4.8
その他	48.3	その他	38.8	鉄鋼	4.7
合計	100.0	合計	100.0	液化天然ガス	3.1
				その他	52.2
				合計	100.0

出所：『新詳地理資料 COMPLETE 2024』帝国書院より作成

【3】 石油および天然ガスに関する各問に答えよ。

問 1 次の図は原油および天然ガスの 2020 年における生産・輸出・輸入国の比率を示している。図中の(あ)～(え)にあてはまる適切な国名について、それぞれ答えよ。

原油生産国	(あ) 15.4%	(い) 13.3	サウジアラビア 12.7	イラク 5.5	(う) 5.4	4.9	4.1	3.8	3.4	その他 28.8		
	アラブ首長国連邦											
原油輸出国	サウジアラビア 16.1%	(い) 11.4	イラク 8.2	(あ) 7.7	カナダ 7.6	5.9	4.5	3.6	3.4	3.4	ブラジル	その他 24.8
	アラブ首長国連邦											
原油輸入国	(う) 25.3%	(あ) 13.6	インド 9.2	韓国 6.2	(え) 5.4	3.9					その他 29.1	
	トルクメニスタン											
天然ガス生産国	(あ) 23.7%	(い) 18.1	イラン 5.8	(う) 4.8	4.6	4.2	3.9	2.9	2.5	アラビア	その他 29.5	
	カタール											
天然ガス輸出国	(い) 19.5%	(あ) 12.2	カタール 10.1	ノルウェー 9.1	8.6	カナダ 5.8	4.9	3.3	3.2	その他 23.3		
	オーストラリア											
天然ガス輸入国	(う) 10.8%	(え) 8.5	ドイツ 6.7	(あ) 6.0	5.5	5.3	5.0	4.5	4.0	その他 43.7		
	イタリア											

出所：『図説地理資料 世界の諸地域 NOW 2024』帝国書院より作成

問 2 2024 年 2 月現在で OPEC に加盟している国名を、次の語群から 4 つ選び、番号で答えよ。

- ① トルクメニスタン    ② サウジアラビア    ③ カナダ    ④ ナイジェリア  
⑤ イラン    ⑥ イラク    ⑦ カザフスタン    ⑧ ブラジル

問 3 天然ガスに関する適切な説明文を次の a～f から 3 つ選び、記号で答えよ。

- a 石炭や石油、天然ガスなどの化石燃料は、化石化した植物などから生成されることから再生可能エネルギーと呼ばれる。  
b 天然ガスの主成分はアンモニアで、天然に産出する可燃性の炭化水素ガスである。  
c 天然ガスは、石油や石炭より質量あたりの熱量が大きく、燃焼時に排出される汚染物質も比較的少ない。  
d 天然ガスは主に油田地帯で産出されるが、石油よりも比較的広範囲の地域でも産出される。  
e 天然ガスは気体のままパイプラインで輸送されるほか、加熱して液化させた液化天然ガス(LNG)として大量輸送される。  
f 日本では、埼玉県南東部から千葉県にかけて国内有数のガス田である南関東ガス田がある。

問 4 地下数メートルの頁岩層に亀裂を入れ、そこに閉じ込められた( )ガスを採取する技術の開発によって、天然ガスの採掘量が近年増加した。この( )にあてはまる語句について、カタカナで答えよ。

問 5 日本国内における石油(原油)の生産は、少ないながら現在も続けられている。海底油田から原油を生産している中部地方の県名を答えよ。

【4】 次の文を読み、地図 A、B を判読しながら以下の各問に答えよ。

熊本県第 2 の都市八代(人口約 12 万人)は、球磨川の河口に位置し、図 A で見るように広大な干拓地に囲まれている。干拓は加藤清正・忠広親子による新牟田新地(千丁町)が始まりと言われ、17 世紀後半には八代城代の松井氏が松崎新地や高子原新地など、海面干拓を盛んに行った。さらに、1816(文化 13)年に高島新地、1855(安政 2)年には球磨川河口の三江湖新地を造成。同年、細川藩も日置川河口で千丁二の丸新地と八代新地を築造した。

干拓は明治以降も続き、1904(明治 37)年も八代郡が郡有財産の創出を目的に 1,046.7 ha の郡築新地を築造し、1909 年に一番～十二番に区画された郡築村が誕生した。その後も、熊本県が 1922 年に南新地(昭和村)、1926 年に北新地(文政村)を干拓、1956 年には国によって、球磨川左岸の金剛干拓が造成された。

干拓地は、常湿田が 4,500 ha という状況で、国は 1964 年度より「八代平野土地改良事業」を実施。県や団体も用排水路の建設や圃場整備を進め、地域農業、とりわけ( c )の栽培が拡大し、八代は全国一の( c )栽培+曇表製造の産地になった。その後、安価な外国産曇表の流入で産地の低迷が続き、代わって( d )園芸農業が盛んとなる。図 B では郡築八番町から十二番町、昭和日進町に多くの温室の分布をみる。

明治以降の八代は、近代工業都市として発展していく。1890(明治 23)年に X 社が、1922(大正 11)年に Y 社が進出した後、市街地の周りには大規模工場が相次いで進出した。豊富な水と電力、木材・農産資源、石灰岩、低廉な労働力などを指向したものである。

一方で、八代港の変貌も顕著である。戦後、国が内港地区の改修で河川と港湾を分離し、1959(昭和 34)年に重要港湾に指定される。1964 年の( e )の指定で、県南の臨海工業開発拠点に位置付けられ、翌年から、順次、外港地区(新港町)の造成・整備を進め、YKK 吉田工業、ヤマハ発動機などの立地をみている。また、1994 年には外国産食糧の輸入港に指定、1999 年に韓国(釜山)との国際定期コンテナ航路の開設、2014 年からは( f )船の寄港も始まり、近年、八代は港湾都市としての機能を高めている。

出所：平岡昭利編『読みたくなる「地図」地方都市編①日本の都市はどう変わったか』海青社 2022 年より作成

問 1 下線部 a について説明した以下の文章中の(あ)(い)にあてはまる適切な語句を答えよ。

球磨川河口は(あ)という地形であり、その上に八代市街地が立地している。近世においては球磨川の河港をもつ(い)町として栄え、近代以降は工業・港湾都市として栄えている。

問 2 下線部 b では、八代平野の干拓は内陸の湿地帯から始まり、その後、海面干拓に移行していくと述べている。問題文と地図をともに読み解き、次の①②に答えよ。

- ① 内陸の干拓前の湿地帯のことを何と言っているか。問題文や地図から抜き出して、あてはまる適切な漢字 2 文字を答えよ。  
② 海面干拓によって造成された耕地のことを何と言っているか。問題文や地図から抜き出して、あてはまる適切な漢字 2 文字を答えよ。

問 3 次の橋の名称のうち、明治期から同じ場所付近に存在すると思われる橋を 2 つ選び、記号で答えよ。

- 〔語 群〕  
ア 南川橋    イ 植柳橋    ウ 白鷺橋    エ 夕葉橋  
オ 新前川橋    カ 八代大橋    キ 金剛橋

問 4 文中の( c )( d )にあてはまる適切な語句を答えよ。

問 5 球磨川流域の有用地域資源である石灰岩と木材を原料として、明治期から八代市に立地しているのがX社とY社の工場である。X社は石灰岩を、Y社は木材を原料とする工場である。業種は以下のうちのいずれか。あてはまる適切な語句を次の語群から選び、記号で答えよ。

〔語 群〕

- ア セメント工業    イ 製紙工業    ウ 製糸工業    エ 化学肥料工業    オ 住宅建設業

問 6 文中の( e )( f )にあてはまる適切な語句を語群から選び記号で答えよ。

〔語 群〕

- ア テクノポリス    イ クルーズ客    ウ 石炭運搬    エ 新産業都市    オ 政令市



図B 2005年頃の八代(国土地理院発行5万分の1地形図「八代」〔日奈久〕の一部)  
出所：平岡昭利編『読みたくなる「地図」地方都市編①日本の都市はどう変わったか』海音社、2022年、より作成



図A 1910年頃の八代(陸軍陸地測量部発行5万分の1地形図「八代」〔日奈久〕の一部)  
出所：平岡昭利編『読みたくなる「地図」地方都市編①日本の都市はどう変わったか』海音社、2022年、より作成

# 地理

●全学部・全学科 B (前期日程)

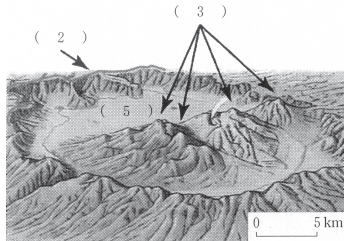
一般選抜 (2月8日実施分)

【1】 図Aを参考にしながら次の文を読み、各問に答えよ。なお、図A中の数字は文中の数字に該当する。

爆発で生じる火口よりはるかに大きな火山性の凹地をカルデラという。ポルトガル語で( 1 )を意味する。周囲を( 2 )に囲まれ、その内部にはカルデラ湖や( 3 )などがみられる。内部に水がたまっているカルデラ湖の例として、日本では洞爺湖、芦ノ湖などが知られ、風光明媚なため観光地になっている。

阿蘇カルデラは南北約25 km、東西約18 km にわたる世界有数のカルデラである。4回にわたる巨大噴火に伴う( あ )の噴出によって形成された陥没カルデラである。火山灰、岩片、高温のガスなどが混じり合って流れるのが( あ )である。大量の噴出物が放出された後に、空洞化した地下の( 4 )だまりに地表が落ち込む形で、カルデラが約9万年前に形成された。その後、現在にかけてカルデラ内で噴火活動が起こり( 3 )が形成されてきた。

阿蘇山の場合はカルデラが誕生して以来、内部にカルデラ湖があった。約1万年前に湖の水が抜けて熊本市方向に流れ下り、カルデラ内に( 5 )が現れたとされる。阿蘇カルデラの( 5 )にある3市町村には約4万人が住み、豊かな田園地帯が広がっている。世界ジオパーク、世界農業遺産にも認定され、カルデラ内外に広がる雄大な農村景観は、国内だけでなく世界中から訪れている観光客を魅了している。



図A 阿蘇カルデラの概観図  
出所：『地理探究』二宮書店より作成

問1 文中の( 1 )～( 5 )にあてはまる適切な語句を次の語群から選び、記号で答えよ。

〔語群〕

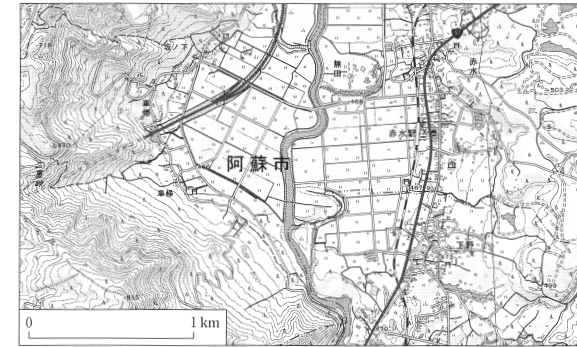
- |        |       |        |         |         |
|--------|-------|--------|---------|---------|
| ア やかん  | イ かまど | ウ 火口原  | エ 外輪山   | オ 中央火口丘 |
| カ マグマ  | キ マール | ク ケスタ  | ケ 溶岩円頂丘 | コ 大鍋    |
| サ 溶岩台地 | シ 火山灰 | ス 橋状火山 | セ 溶岩流   | ソ 寄生火山  |

問2 下線部a、bがある都道府県名を答えよ。

問3 文中の( あ )にあてはまる適切な語句を漢字3文字で答えよ。

問4 図Bは阿蘇カルデラの一部地域であるが、以下の文中の( い )( う )にあてはまる適切な語句を答えよ。

〔図Bのカルデラ内の平坦地では、河川が蛇行し( い )湖が見られるから、この付近一帯の地形は( う )と判読できる。かつて湿地帯であったところに水田が拓かれている。〕



図B  
出所：国土地理院電子地図より作成

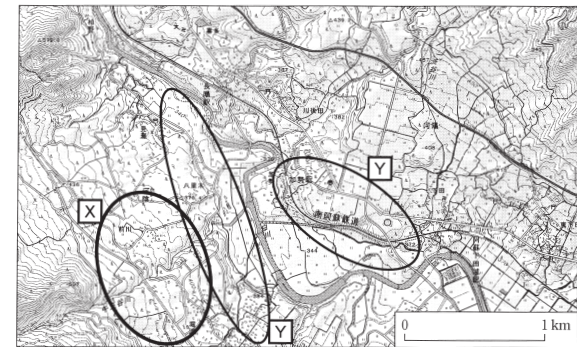
問5 図Cも阿蘇カルデラの一部地域であるが、X、Yの2箇所に見られる地形は、等高線から判断すると何であるか。あてはまる適切な語句を次の語群から選び、記号で答えよ。

〔語群〕

- |       |        |        |      |
|-------|--------|--------|------|
| ア 水無川 | イ 自然堤防 | ウ 三角州  | エ 砂州 |
| オ 扇状地 | カ 天井川  | キ 河岸段丘 |      |

問6 図Cを流れる主要河川はどちらからどちらへ方向に流れているか。次から適切なものを選び記号で答えよ。

- |                |                |
|----------------|----------------|
| ア 南から北へ、その後は西へ | イ 西から東へ、その後は南へ |
| ウ 北から南へ、その後は東へ | エ 東から西へ、その後は北へ |



図C  
出所：国土地理院電子地図より作成

【2】 ラテンアメリカに関する次の文を読み、各問に答えよ。

ラテンアメリカでは、スペインや(あ)によって持ち込まれた(い)制の下、赤道周辺の海岸付近では(う)農業が行われている。南部の(え)草原であるパンパでは、年間降水量(1)mmを境に東部の(お)パンパと西部の(か)パンパに分けられ、前者では混合農業や小麦栽培が、後者では牛や羊の放牧が盛んである。

チリ共和国は、北部に砂漠地帯を持ち、国土の東部が世界最大の(き)山脈であるアンデス山脈が広がる、南北に長く気候の変化に富んだ国家で国土の大部分が環太平洋造山帯に属する。異なる人種間での混血の割合が多く、先住民とヨーロッパ系住民との間の混血の人びとは特に(2)と呼ばれる。また鉱工業が盛んで、古くから(3)鉱石の輸出国として知られる。(3)の埋蔵量及び生産量は世界一位で、国営企業が大規模鉱山を所有している。近年は魚介類の輸出も盛んであり、日本はチリ南部で養殖される(く)の主要な輸入国である。

問1 文中の(あ)～(く)にあてはまる適切な語句を次の語群から選び、番号で答えよ。

〔語群〕

- ① フランス      ② 湿潤      ③ さけ      ④ 断層      ⑤ 大土地所有
- ⑥ ポルトガル   ⑦ 温帯      ⑧ 三圃      ⑨ 乾燥      ⑩ 寒冷
- ⑪ ブランテーション   ⑫ まぐろ      ⑬ イミテーション   ⑭ 褶曲      ⑮ 桶状

問2 文中の(1)～(3)にあてはまる適切な語句をそれぞれ答えよ。

問3 下線部aについて、チリ共和国北部に広がる砂漠の名称についてカタカナで答えよ。

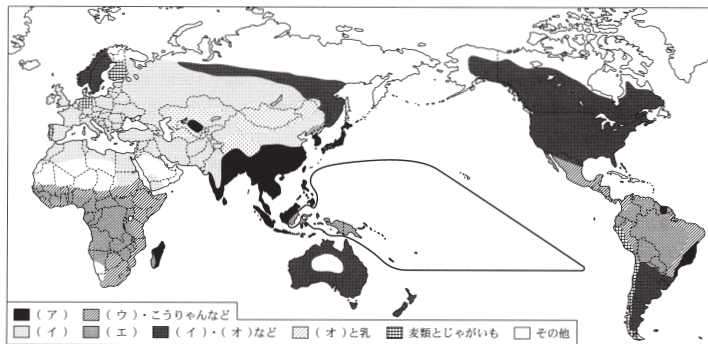
問4 下線部bについて、チリ共和国内の気候として次の語群のうちあてはまらないものをひとつ選び、記号で答えよ。

〔語群〕

- ア 西岸海洋性気候      イ ソンドラ気候      ウ 熱帯雨林気候      エ 地中海性気候

【3】 世界の食文化に関して、各問に答えよ。

問1 次の図は、世界における主な主食材料の分布を示している。(ア)～(オ)にあてはまる適切な語句を下の語群から選び、番号で答えよ。

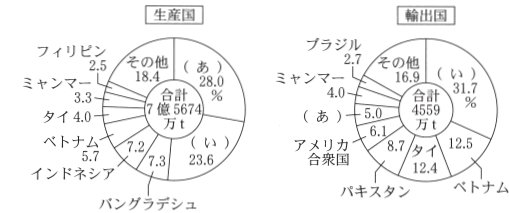


出所：『新詳地理資料 COMPLETE 2024』より作成

〔語群〕

- ① 小麦      ② 大根      ③ 米      ④ イモ類
- ⑤ 肉      ⑥ 魚      ⑦ トウモロコシ

問2 次のグラフは、2020年における米の生産量と輸出量の国別割合を示している。(あ)～(い)にあてはまる国名を答えよ。



出所：『新詳地理資料 COMPLETE 2024』より作成

問3 次の文章は、世界各地における特徴的な食べものを示している。あてはまる適切な食べものを下の語群から選び、番号で答えよ。

- A 米粉からつくられた麺のベトナムでの呼び名。麺に牛肉・鶏肉・野菜などをのせたものが、屋台料理としてよく提供される。
- B 小麦粉の生地を発酵させて、タンドールと呼ばれる釜で焼き上げたもの。インド、西アジア、北アフリカ等で広く食されている。
- C 朝鮮料理における漬物の総称。塩漬けの野菜に様々な菜味を混ぜて漬け込み、発酵させたもの。
- D 寒暖差を利用してジャガイモを乾燥させた、アンデス地方の保存食。水で戻し、スープの具等として使用される。
- E トウモロコシの粉や小麦粉を練って、発酵させずに薄くのぼして焼いたもの。メキシコでよく食べられている。これに様々な具材を包むのがタコスである。

〔語群〕

- ① キムチ      ② トルティーヤ      ③ ナン      ④ フォカッチャ
- ⑤ チューニョ      ⑥ フォー      ⑦ アサード

# 地理

●全学部・全学科 C (前期日程)

一般選抜 (2月9日実施分)

【4】 移民国家アメリカに関する次の文を読み、各問に答えよ。

アメリカの多民族社会は人種・民族の「( a )」と言われる。元来、北アメリカ大陸では「( b )」が自然環境に適応した生活を営んでいた。その後、( 1 )年に13の植民地がイギリスからの独立を宣言して、アメリカ合衆国を建国した。建国当初からアメリカ合衆国の政治・経済・文化の発展を先導したのは、( c )と呼ばれる、初期入植者の流れをくむ、アングロサクソン系、プロテスタント系の白人であった。独立後にアメリカ合衆国へ渡ってきた人々はアパラチア山脈を越えて内陸へ向かい、( 2 )前線は西へと進んだ。

現在ではアメリカの民族構成は多様である。ニューヨークでは、イタリア人街やユダヤ人街など、移民の出身地域ごとの( 3 )も見られる。同様の現象はロサンゼルスなどの大都市でも見られる。とくに近年では、メキシコを中心としたスペイン語圏から移住した( d )の人びとが増加している。

ニューヨークの一角にある( 4 )は、1920年頃にビルの過剰建設によって地価が暴落し、南部からの貧しいアフリカ系の人びとが住みついて形成された。( 4 )は1950年代～60年代の( e )の中心となり、ブラックカルチャーの発信地ともなった。他方でこのエリアは、経済的には最底辺におかれ、治安も悪化してスラム化が進んだ。こうした現象を「( 5 )問題」という。近年では、都市中心部で再開発によってオフィスや高層住宅の建設が進んでいる。改良された住宅にエリート層が入居することなどによって家賃も上昇し、都心部への人口回帰にもつながっている。こうした現象は( 6 )とよばれる。

また、郊外には高所得層が居住する( 7 )コミュニティと呼ばれる住宅地も開発されている。その特徴は、周囲を塙で囲って入口の通用門によって出入りを管理する点にある。いわば、所得階層による( 3 )も生じているのである。

問 1 文中の( 1 )～( 7 )にあてはまる適切な語句を次の語群から選び、番号で答えよ。

〔語群〕

- |            |             |                |
|------------|-------------|----------------|
| ① 1776     | ② 1789      | ③ 1862         |
| ④ 開拓       | ⑤ 開発        | ⑥ 開墾           |
| ⑦ セグリゲーション | ⑧ セグメンテーション | ⑨ ジェントリフィケーション |
| ⑩ インナーシティ  | ⑪ ゲーテッド     | ⑫ ハーレム         |
| ⑬ オークランド   | ⑭ マサチューセッツ  |                |

問 2 ( a )には複数の民族が文化的特徴を維持しながら並存しているさまをあらわす語が入る。カタカナ6文字で答えよ。

問 3 ( b )にはアメリカインディアンやアラスカ先住民等の総称が入る。カタカナ10文字で答えよ。

問 4 ( c )に入るアルファベット4文字を答えよ。

問 5 ( d )に入る特定の人びとを指す語をカタカナ6文字で答えよ。

問 6 ( e )に入る黒人を中心とした自由や平等などの権利保障を求める運動の名称を漢字5文字で答えよ。

【1】 次の文を読み、各問に答えよ。

- A 例年と著しく異なる気象現象を( 1 )といい、冷夏・( 2 )・猛暑・干ばつ・多雨などが含まれる。その程度を量的にみるために過去30年間の月平均気温・月降水量からの偏差を用いている。数年に一度、太平洋東部の熱帯域で海面水温が高くなり、数ヶ月間継続する現象を( 3 )現象という。この現象が起きると日本では広い地域で( 2 )となる傾向がある。逆に太平洋東部の熱帯域で海面水温が低くなる現象は( 4 )現象であり、日本では冬に気温が( 5 )くなる。
- B 人間活動の影響によって局地的に特殊な気象現象があらわれることがある。特に都市部では熱を( 6 )性質の人工構造物で覆われて植物が少ないことから、周辺部より気温が高くなる( 7 )現象がみられ、特に( 8 )に顕著である。一方( 9 )には、これに湿った空気が関与して( 10 )の一因となっている。さらに都市部では自動車や工場の排気に含まれる窒素酸化物などに太陽光が影響して( 11 )を発生させることもあり、大気汚染の問題となっている。

問 1 文中の( 1 )～( 11 )にあてはまる適切な語句を次の語群から選び、記号で答えよ。

〔語群〕

- |             |           |            |         |         |
|-------------|-----------|------------|---------|---------|
| ア 冬         | イ 蓄える     | ウ ホットスポット  | エ 低     | オ 梅雨    |
| カ バックビルディング | キ ラニーニャ   | ク ヒートアイランド | ケ 高     | コ 局地的大雨 |
| サ 異常気象      | シ 放出する    | ス 地球温暖化    | セ 台風    | ソ 一定に保つ |
| タ 夏         | チ 光化学スモッグ | ツ 暖冬       | テ PM2.5 | ト 中     |
| ナ 秋         | ニ エルニーニョ  | ヌ 線状降水帯    | ネ フェーン  |         |

問 2 Aの文中にあるように、太平洋東部の熱帯域における海面水温の異常と日本の気象との間に相関関係がみられる。このような遠く離れた地点間にみられる相関関係を何と呼ぶか。カタカナで答えよ。

問 3 下線部について、特に太陽から受ける( )が、主に汚染物質の発生に影響している。( )にあてはまる適切な語句を漢字で答えよ。

【2】 ヨーロッパ統合に関する次の文を読み、各問に答えよ。

ヨーロッパでは二度の大戦を経験し、紛争のもととなってきた石炭資源と鉄鋼業を共同管理下におくため、ヨーロッパ石炭鉄鋼共同体( a )が設立された。その後、より幅広い分野での経済統合を目指してEEC(ヨーロッパ経済共同体)が発足した。EECは、1967年にEC(ヨーロッパ共同体)となり、域内の農業保護と食料の安定供給を目的とした( b )政策を実現するなどしてきた。これは、生産性の低い国の農業が保護され、生産性の高い国の農業が発展することにつながった。だが他方で、農産物の生産過剰や、多額の補助金による財政負担の問題が生じた。2004年以降は、農業の近代化が遅れた( 1 )諸国がEU( c )に加盟したことで補助金の支出額が増加し、その財政はさらに苦しくなった。

1993年の( 2 )の発効によって、人・モノ・サービス・資本の域内移動が自由化された。現在、ヨーロッパの多くの国では、パスポートを提示せずに自由に国境を行き来することが可能である。これは、1995年に発効した出入国審査の廃止を取り決めた( 3 )を実施する国どうしで行われている取り組みである。これにより、国境に住む人々はまるで隣町に行くような気軽さで隣国に通勤したり、買い物に行ったりすることが可能である。たとえば、ドイツ(ケール)とフランス(ストラスブール)の国境となる( 4 )川には橋が架かっており、人々が自由に往来している。またEUの交通網も広がり、人びとが移動することを可能にしている。イギリスと大陸ヨーロッパを結ぶ( 5 )などの高速鉄道はその一例である。加えて、消費活動においてもヨーロッパ単一通貨[( d )]で買い物をしたり、給与を受け取ることが可能である。

( 2 )の発効によって、域内の人の移動が自由化されると経済水準の低い地域からドイツ・イギリス・フランスへの( 6 )力移動が生じた。また、2004年以降は新たに加盟した( 1 )諸国からイギリスやドイツへ向かう人が増加した。こうした移民の問題に加えて、2010年代には[( 7 )の春]以降、アフリカや中東から弾圧や迫害を逃れて[( e )]が流入している。こうした移民や[( e )]の受け入れの問題を背景にして、2020年に( f )のEU離脱という事態が起きた。ヨーロッパ各地で民族意識が高まってきており、独立を目指そうという動きも活発になりつつある。

問1 文中の( 1 )～( 7 )にあてはまる適切な語句を次の語群から選び、番号で答えよ。

(語群)

- |           |          |             |          |
|-----------|----------|-------------|----------|
| ① 東 欧     | ② 北 欧    | ③ マーストリヒト条約 | ④ リスボン条約 |
| ⑤ シェンゲン協定 | ⑥ 経済連携協定 | ⑦ ライン       | ⑧ セーヌ    |
| ⑨ ドナウ     | ⑩ ユーロスター | ⑪ AVE       | ⑫ TGV    |
| ⑬ 労働      | ⑭ 生産     | ⑮ アラブ       | ⑯ アフリカ   |

問2 ( a )に入る「ヨーロッパ石炭鉄鋼共同体」の略称をアルファベット4文字で答えよ。

問3 ( b )に入る適切な語句を漢字4文字で答えよ。

問4 ( c )に入るEUの正式名称を日本語で答えよ。

問5 ( d )に入る正式名称を日本語で答えよ。

問6 ( e )には、弾圧や迫害を逃れて生活していた国や土地を離れた人びとを指す語が入る。eに入る語を漢字2文字で答えよ。

問7 ( f )に入る国名を答えよ。

【3】 貿易に関する次の文を読み、各問に答えよ。

世界の自由貿易に関するルールを決めたり、分野ごとに交渉や協議を実施したりする場である( 1 )は、第2次世界大戦後の( 2 )体制を引き継ぎ、( 3 )交渉を経て、1995年に発足した。

しかし、( 1 )による多角的貿易交渉の進展が見られない中で、2つ以上の国や地域が、関税や数量などの貿易制限を相互に削減し合う協定である( 4 )や、投資・知的財産・人の移動・電子商取引など、( 4 )での自由化に加えて幅広い分野での連携を強化し、さらに貿易を拡大させようとする協定である( 5 )の締結が活発になっている。

このような自由貿易協定の具体例としては、東南アジアにおける1967年発足の( 6 )、アジア太平洋地域における1989年発足の( 7 )、南アメリカにおける1995年発足の( 8 )、さらには、環太平洋地域において2016年に12カ国が協定に署名した後、( ア )の離脱によって改めて2018年に発効した( 9 )などがあげられる。

問1 文中の( 1 )～( 9 )にあてはまる適切な語句を次の語群から選び、番号で答えよ。

(語群)

- |         |              |         |        |
|---------|--------------|---------|--------|
| ① APEC  | ② EPA        | ③ ASEAN | ④ GATT |
| ⑤ WTO   | ⑥ MERCOSUR   | ⑦ IBRD  | ⑧ FTA  |
| ⑨ CPTPP | ⑩ ウルグアイ＝ラウンド | ⑪ 一帯一路  |        |

問2 ( ア )にあてはまる国名を答えよ。

問3 一方が大幅な赤字で他方が大幅な赤字となっている等、貿易のバランスの悪さによって関係国間で対立が発生することを「貿易( イ )」と呼ぶ。( イ )にあてはまる適切な語句を答えよ。

問4 先進国の消費者が、発展途上国の農産物や雑貨等を適正な価格で購入するなど、社会的・経済的に強い立場にある者と弱い立場にある者が対等な取引を行う貿易を何と呼ぶか、カタカナで答えよ。

【4】 都市の住宅地に関する次の文を読み、各問に答えよ。

都市郊外において大規模に開発された住宅地は、一般にニュータウンと呼ばれる。ここでは、その歴史についてイギリスと日本を比較する。

イギリスにおけるニュータウン開発のもととなるのが、1898年に都市計画家の( 1 )によって提唱された( 2 )構想である。当時のイギリスは( 3 )以降、都市への人口や工場の過密化が進んでいた。(a)に基づく住宅地を目指す( 2 )構想はその有力な解決策として打ち出されたものであり、ロンドンから北へ約60 km離れた( 4 )で開発が行われた。この考えは、1944年に発表された大ロンドン計画に引き継がれ、ここで初めてニュータウンという言葉が用いられた。大ロンドン計画では、( 5 )という無秩序な開発を防ぐために郊外と既成市街地の間に( 6 )が設けられた点に特徴がある。

他方、日本においてニュータウンの開発が本格的に行われたのは、高度経済成長期に当たる1960年代以降のことである。その主な対象地域として、首都圏、関西圏、中京圏からなる三大都市圏の郊外があげられる。日本のニュータウンは大都市で就業する居住者の( 7 )と位置づけられていたために、イギリスとは対照的に就業先と自宅の位置関係は一般的に(β)の状態にあるとみなされた。

近年、1960～1970年代に開発された日本のニュータウンはオールドタウンと呼ばれ、当該地域で育った子どもの多くが進学や就職に伴って他地域に流出するのは対照的に、その親世代の多くが残留し、かつ新たな人口流入が生じにくいために人口の減少を伴う高齢化が深刻な社会問題になっている。その結果、居住者の日常における消費を支えていたスーパーなどの小売施設の閉鎖に加え、祭りの運営に代表される自治活動が衰退することも珍しくない。また、開発の初期に建てられた集合住宅の中には、エレベーターが設置されていないところもある。日本のニュータウンの多くは起伏に富んだ( 8 )に建設されたことも相まって、そこで生活する高齢者の身体的負担は大きい。したがって、今後のニュータウンにおいては高齢者が過ごしやすくなるようバリアフリーやユニバーサルデザインが整ったまちづくりが強く求められる。

問1 文中の( 1 )から( 8 )にあてはまる適切な語句を次の語群から選び、記号で答えよ。

〔語群〕

ア 農村開発	イ スプロール	ウ 湿地
エ 田園都市	オ ルネサンス	カ ベリー
キ レッチワース	ク 丘陵地	ケ 流通革命
コ コンパクトシティ	サ ハワード	シ グリーンベルト
ス ハーロー	セ 産業革命	ソ ベッドタウン

問2 下線部aについて、三大都市圏で開発されたニュータウンの中で、最も開発年次が古く、かつ大都市に最も近いのはどれか。あてはまるニュータウンを次の語群から選び、番号で答えよ。

〔語群〕

① 高蔵寺      ② 千葉      ③ 泉北      ④ 多摩      ⑤ 千里

問3 文中の(a)と(β)にあてはまる正しい組合せを次の語群から選び、甲・乙いずれかの記号で答えよ。

〔語群〕

甲 (a) 職住分離    (β) 職住近接      乙 (a) 職住近接    (β) 職住分離

問4 下線部bについて、就業先と自宅のある市町村のつながりは通勤流動という形で示され、5年に1度実施されるある統計の調査結果を通じて明らかにすることができる。1920年の調査開始から100年が経過したその統計調査は何か。適切な語句を次の語群から選び、記号で答えよ。

〔語群〕

あ 経済センサス      い パーソントリップ調査      う 国勢調査

問5 下線部cについて、ニュータウンに居住する高齢者にとって、自宅近くにあった小売施設の閉鎖は、買物の頻度を低下させるだけでなく、缶詰やレトルト食品など栄養が偏った食事を摂らざるを得なくなることに伴う健康上のリスクの高まりが懸念される。このような食生活の環境悪化を指す用語は何か。カタカナで答えよ。